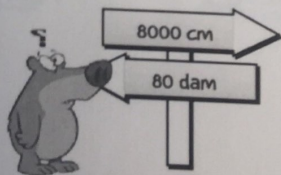
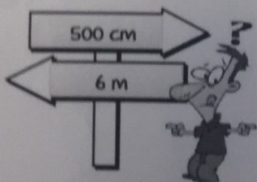
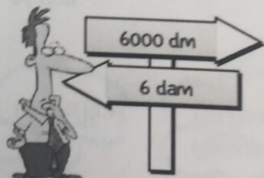
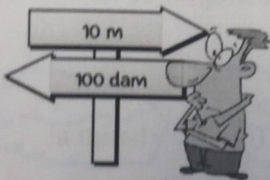
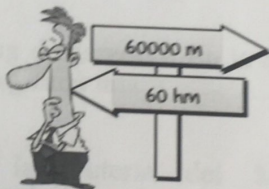
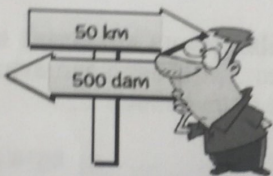

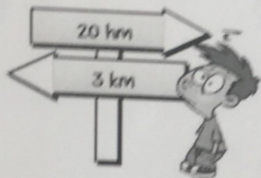

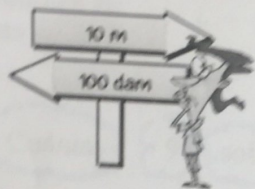


Pasatiempos (Dale al Coe)

Números (Unidades de medida: longitud)

3. SELECCIONA EL CAMINO MÁS CORTO:



PROBLEMAS PARA COMPLETAR

ENUNCIADOS (Completa primero y resuelve después)

1º En una tienda de descargan 136 cajas de plantas en montones iguales. ¿..... cajas hay en cada montón? Si hicieran montones de ¿..... cajas ponen en cada uno? ¿Cuántas cajas?

Cuántas 9 sobran plantas 8 Cuántas

Datos:

Operaciones:

Solución:

2º Una furgoneta va cargada con 844 kg de naranjas. En la frutería del Ahorramás reparte cajas de ...kg cada una. ¿..... kilos de quedan en la furgoneta?

Si descarga en la frutería del Mercadona, ¿Cuánto en su furgoneta al terminar el día?

7 la mitad

Cuántos 50

naranjas Kg

furgoneta queda

Datos:

Operaciones:

Solución: